


Klasse: \_\_\_\_\_ Datum: \_\_\_\_\_ Name: \_\_\_\_\_

## Eine Wohnungsanzeige lesen

**Anzeigen in der Zeitung haben ihren Preis. Der Text wird pro Zeile abgerechnet. Deshalb ist es preiswerter, die Wörter abzukürzen.**

-  **1** Schreibe eine Wohnungsanzeige für die Zeitung.  
Verwende Abkürzungen.  
Dein Abkürzungsverzeichnis von KV 12 hilft dir dabei.

Junge Auszubildende sucht zum ersten September, ungefähr vierzig Quadratmeter, ein Zimmer mit Küche und Bad, bis vierhundert Euro Warmmiete, gerne renovierungsbedürftig, Telefonnummer xxx.


-  **2** a) Was wird in der folgenden Zeitungsanzeige angeboten?


2 ZKBalk, ca. 45 qm, ab 1.9. zu verm.,  
320 € KM+90 € NK, EG, Tel.nr.xxx


- b) Passt die Wohnung zu der Anzeige von Aufgabe 1?  
Begründe deine Meinung.


Klasse: \_\_\_\_\_ Datum: \_\_\_\_\_ Name: \_\_\_\_\_

## Einen Informationstext lesen


Maja möchte wissen, was ein Wohnberechtigungsschein ist.  
 Sie informiert sich auf der Homepage ihrer Stadt.


 **Der Wohnberechtigungsschein (WBS)**

1 Eine **Sozialwohnung** darf nur beziehen, wer über einen **gültigen**  
 2 **Wohnberechtigungsschein** verfügt.  
 3 Dieser gilt für ein Jahr und enthält Angaben über die Personenzahl und die maximale  
 4 Größe der Wohnung, die bezogen werden darf. Der Wohnberechtigungsschein kann erteilt  
 5 werden, wenn die einkommensmäßigen Voraussetzungen erfüllt werden.  
 6 Ab 01.01.2009 gelten dabei folgende Einkommensgrenzen:

die Haushaltsgröße	die Einkommensgrenze <sup>1</sup>	die maximale Wohnungsgröße <sup>1</sup>
1 Person	bis 12 000 Euro	1 Zi oder 45 qm
2 Personen	bis 18 000 Euro	2 Zi oder 60 qm

<sup>1</sup>Die Einkommensgrenze und die maximale Wohnungsgröße können in jedem Bundesland unterschiedlich sein.

-  **1** Markiere die Antworten der folgenden Fragen im Text.
- Wozu berechtigt der WBS?
  - Wie lange gilt er?
  - Wann kann er erteilt werden?
  - Wie viel Euro darf das Einkommen einer Person pro Jahr nicht überschreiten?
  - Wie groß darf die Wohnung für zwei Personen, die einen WBS haben, sein?

 **2** Majas Cousin Raoul ist 30 Jahre alt. Er verdient als Gartenwerker 1100 € im Monat.

a) Rechne aus, wie hoch das Jahreseinkommen ist.

b) Prüfe mit Hilfe der Tabelle, ob Raoul einen **WBS** beantragen könnte.

**Für die folgende Aufgabe brauchst du ein liniertes Blatt.**

-  **3** Schreibe die wichtigen Informationen zum WBS auf.
- a) Schreibe die Überschrift **Informationen zum Wohnberechtigungsschein**.
  - b) Schreibe die Fragen und die Antworten von Aufgabe 1 darunter.
  -  c) Ordne das Blatt in deinen **Lebensordner** ein.